



República de Honduras
Secretaría de Educación

Pruebas Formativas Mensuales

Ciencias Sociales

2^{do}
Grado

Año 2014

Nombre del Alumno(a): _____

Nombre del Maestro(a): _____

Departamento: _____ Municipio: _____

Escuela: _____

Presentación

Estimado alumno o alumna:

Tenemos el gusto de presentarle el Cuaderno de las Pruebas Formativas mensuales de Ciencias Sociales del presente año escolar, para que pueda saber cuánto ha aprendido durante cada mes y en qué necesita ayuda.

Al finalizar cada mes, su profesor o profesora, le entregará su cuaderno para que desarrolle la prueba que corresponde a ese mes.

En los ítems o ejercicios de Selección Única, leerá la pregunta y luego seleccionará, entre las opciones, la respuesta correcta. En los otros tipos de ítems, se explica claramente lo que debe hacer en cada uno de ellos.

Si contesta correctamente, todas o la mayoría de las preguntas, esto indicará que va por buen camino y que su nivel de rendimiento es Avanzado. Con esto no solo obtiene satisfacción personal, sino que también tendrá la oportunidad de ayudar a sus compañeros y compañeras que todavía no han logrado un buen rendimiento en los conocimientos del mes.

Si al contestar las preguntas encuentra alguna dificultad, significa que necesita más estudio y quizá ayuda de su maestro o maestra o de los estudiantes avanzados. Es importante recordar que el estudio de las Ciencias Sociales, no solo es fascinante, sino que ayuda a conocer más el funcionamiento de la sociedad y sus actividades económicas, la geografía e historia del país, de la región Centroamericana y el mundo. Además se aprenden los valores humanos que nos orientan a construir una sociedad más justa y moderna.

Informe a su mamá, a su papá u otros familiares sobre sus resultados en cada prueba, en qué aspectos va muy bien y en cuáles necesita más apoyo.

Sus padres, maestros y maestras, compañeros y compañeras, constituyen un gran respaldo para seguir adelante.

- 1** Cuando la maestra nos felicita por haber realizado bien la tarea, ella nos muestra esta actitud:
- A. Desanimada
 - B. Molesta
 - C. Complacida
 - D. Triste
- 2** ¿Cuándo practicamos la honradez?
- A. Guardando silencio.
 - B. Ayudando al vecino.
 - C. Regalando pelotas.
 - D. Respetando lo ajeno.
- 3** ¿Cómo se le llama al depósito natural de agua dulce?
- A. Lago
 - B. Golfo
 - C. Mar
 - D. Bahía
- 4** ¿Qué punto cardinal nos indica donde nace el sol?
- A. Este
 - B. Oeste
 - C. Sur
 - D. Norte

- 5 Marque con un punto en el mapa de Honduras, el departamento donde vive:



- 6 ¿Cómo se siente la maestra cuando nos portamos bien durante las clases?
- A. Molesta
 - B. Alegre
 - C. Seria
 - D. Triste
- 7 ¿Cuál es el símbolo que señala los puntos cardinales en un mapa?
- A. La bandera.
 - B. Una señal de alto.
 - C. Un escudo.
 - D. La rosa náutica.

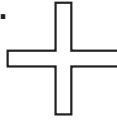
8 ¿Cuál de estos símbolos representa un aeropuerto en el mapa?

A.



Ancla

B.



Cruz

C.



Estrella

D.



Avión

9 ¿Qué medio de transporte se traslada sobre rieles?

A. Barco

B. Tren

C. Avión

D. Caballo

10 ¿Qué medio de comunicación solo permite escuchar mensajes?

A. La televisión

B. La internet

C. El radio

D. El teléfono

11 ¿Qué medio de comunicación nos permite hablar con nuestros amigos y familiares en cualquier momento y lugar?

A. El radio

B. La carta

C. El celular

D. La televisión

12 ¿Qué diferencia a los miembros de una comunidad?

- A. Su forma de vida e ingresos.
- B. Su forma de bailar.
- C. El lugar donde trabaja.
- D. El lugar donde compra.

13 ¿A cuál de las siguientes personas se debe atender con preferencia?



Escolares



Director



Señora embarazada



Agricultor

1 El siguiente es un ejemplo de comunidad urbana:

- A. Una ciudad.
- B. Un caserío.
- C. Un pueblo.
- D. Una aldea.

2 ¿Cómo se llama la unidad territorial en que se dividen los departamentos de Honduras?

- A. Estado
- B. Provincia
- C. Municipio
- D. Nación

3 ¿Qué característica tiene una población rural?

- A. Las familias viven en edificios altos.
- B. Los niños no salen de sus casas.
- C. Las personas cultivan la tierra.
- D. Los habitantes trabajan sólo en oficinas.

4 ¿Qué caracteriza a los habitantes de una aldea?

- A. Las personas se conocen y son amigables.
- B. Los vecinos no se conocen.
- C. Los pobladores son profesionales.
- D. Las familias son pequeñas.

5 ¿Qué celebración se realiza en la escuela?

- A. Un cumpleaños.
- B. Una fiesta de trabajo.
- C. Elección del Gobierno Escolar.
- D. La feria del pueblo.

6 ¿Cómo podemos hacer uso de la democracia participativa en nuestro municipio?

- A. Expresando nuestras opiniones y respetando la de los demás.
- B. Dejar que solo las personas adultas opinen.
- C. Obedecer lo que un grupo de personas ordenan.
- D. Todas las personas expresan su opinión menos los menores de edad.

7 ¿Qué actividad demuestra respeto a las personas?

- A. Servir al necesitado.
- B. Escuchar con atención a los demás.
- C. Limpiar nuestra casa.
- D. Cuidar las pertenencias del hogar.

8 ¿A quién corresponde mantener limpia las calles de la comunidad?

- A. Al comerciante.
- B. La escuela.
- C. A toda la población.
- D. Al zapatero.

9 Escribe tres de las principales actividades a las que se dedican las personas en tu departamento:

A. _____

B. _____

C. _____

10 ¿Cuál de estas personas ayudan a mantener el orden y la seguridad en nuestra comunidad?

A. El constructor

B. La maestra

C. El doctor

D. La policía

11 ¿A quién debemos acudir en caso de incendios?

A. A un bombero.

B. A una maestra.

C. A un policía.

D. A un sacerdote.

12 ¿Cómo se les llama a las personas que se trasladan a vivir del campo a la ciudad?

A. Viajeros

B. Migrantes

C. Extranjeros

D. Turistas

13 Mencione dos motivos que tienen las personas para trasladarse de un lugar a otro:

A. _____

B. _____

- 1 Es una norma de cortesía que debemos practicar al iniciar el día:**
- A. Lavar la ropa del día anterior.
 - B. Dar los buenos días a la familia.
 - C. Lavarnos las manos
 - D. Reparar los muebles rotos.
- 2 Por las mañanas al levantarnos debemos practicar este hábito personal:**
- A. Recoger la basura.
 - B. Arreglar la cama.
 - C. Desayunar antes de bañarnos.
 - D. Lavar la ropa del día anterior.
- 3 Cuando vamos a comprar un boleto para viajar en el bus, es importante seguir esta norma de convivencia social:**
- A. Hacer fila para comprar el boleto.
 - B. Pedir a alguien que compre el boleto.
 - C. Pagar para reservar un asiento en el bus.
 - D. Comprar el boleto sin hacer fila.
- 4 Cuando María y Juan van a comprar los alimentos para la semana, ellos practican esta norma:**
- A. Busca quien le ayude a comprar de primero.
 - B. Mantienen un trato cordial con los vendedores.
 - C. Toma lo que necesitan y no pagan.
 - D. Se colocan de primeros, sin importarle los demás.

5 ¿Cuáles de estas normas, nos permiten tener un trato cordial con las personas?

- A. El respeto y la tolerancia.
- B. La puntualidad y honradez.
- C. La simpatía y responsabilidad.
- D. El respeto y generosidad.

6 ¿Cuál es la mayor importancia de los recursos naturales para el ser humano?

- A. Originan los cambios del clima.
- B. Proporcionan alimentos y vivienda.
- C. Conocemos diferentes especies de animales.
- D. Nos brindan hermosos paisajes artificiales.

7 ¿Cuál es un factor de riesgo para la vida de las personas?

- A. Construir casas en los cerros.
- B. Recoger agua de lluvia para lavar.
- C. Lavarse los dientes después de comer.
- D. Barrer el patio de la casa.

8 Cuando comienza la época de lluvia, si votamos basura cerca de los desagües, ¿Qué riesgo puede ocurrir?

- A. La superficie tiembla.
- B. Las viviendas se caen.
- C. La corriente de agua se desvía y provoca inundaciones.
- D. El suelo se agrieta.

- 9** ¿Qué medida de prevención debemos practicar para evitar que desaparezca el bosque?
- A. Cortar sin control los árboles.
 - B. Cortar los árboles mas jóvenes.
 - C. Usar el recurso de forma racional y reforestar.
 - D. Utilizar el recurso solo de ciertos lugares.
- 10** ¿Qué consecuencias puede tener en las personas la contaminación del ambiente?
- A. Producción de mejores granos.
 - B. Ocasiona alergias a las personas.
 - C. Los ríos cambian su curso natural.
 - D. La tierra se vuelve más productiva.
- 11** ¿Cuál de estos grupos de personas pueden ayudar a cuidar el medio ambiente?
- A. El asilo de ancianos.
 - B. La sala de niños del hospital.
 - C. Los alumnos de las escuelas.
 - D. Las personas que viven en la calle.
- 12** ¿Cuál de estas actividades ayudan a la conservación de los recursos naturales de su departamento?
- A. Jugar en el parque.
 - B. Sembrar árboles.
 - C. Comer frutas y vegetales.
 - D. Sembrar arroz y frijoles.

13 ¿Cuál de estas acciones nos ayudarían a cuidar los recursos naturales del municipio?

- A. Buscar ayuda de instituciones extranjeras.
- B. Botar la basura solo en los ríos y quebradas.
- C. Hacer campañas de limpieza en la comunidad.
- D. Enterrar la basura en la tierra donde se siembra.

1 ¿Con que acciones se rompe el orden y la armonía social?

- A. Respetando a las demás personas.
- B. Descuidando los edificios públicos.
- C. Imponiendo nuestras ideas a otros.
- D. Haciendo solo lo que corresponde.

2 ¿Qué valor de convivencia social practica el alcalde, al escuchar a los ciudadanos del municipio?

- A. La acción democrática.
- B. El respeto a los ancianos.
- C. La solidaridad con las personas.
- D. El sentido de responsabilidad.

3 ¿Para qué se utilizan las normas en el aula de clases?

- A. Para decorar el aula.
- B. Para mantener el orden.
- C. Para premiar a los alumnos.
- D. Para correr en el aula.

4 ¿Cómo se divide un departamento?

- A. Por caseríos.
- B. Por municipios.
- C. Por ciudades.
- D. Por aldeas.



Departamento de Olancho

5 ¿Qué ciencia nos ayuda a conocer el pasado de nuestro departamento?

- A. Ciencias Naturales
- B. Español
- C. Matemáticas
- D. Ciencias Sociales

6 ¿Quiénes conocen y cuentan la historia de la comunidad?

- A. Los estudiantes del colegio.
- B. El sacerdote.
- C. Los ancianos del lugar.
- D. El alcalde.

7 ¿Cuál de estos eventos es una celebración histórica de tu municipio?


- A. Las fiestas patrias.
- B. Las ferias patronales.
- C. La fecha de creación.
- D. Los cumpleaños.

8 ¿Qué sucedió primero para que se formara la comunidad?

- A. La construcción de la alcaldía.
- B. La llegada de sus pobladores.
- C. La construcción de la iglesia.
- D. La construcción del parque.

- 9** ¿A que se dedicaban los primeros pobladores de la comunidad?
- A. A la industria.
 - B. A viajar.
 - C. A estudiar.
 - D. A la agricultura.
- 10** Es el orden en que se aprueban los grados inferiores de la escuela:
- A. Tercero, primero y segundo.
 - B. Primero, segundo y tercero.
 - C. Cuarto, sexto y quinto.
 - D. Sexto, cuarto y quinto.
- 11** ¿Cuál de estos alimentos nos heredaron los antepasados?
- A. Las enchiladas.
 - B. Los tacos.
 - C. Las tortillas.
 - D. Los espaguetis.
- 12** ¿Cuál de estos instrumentos musicales es tradicional en Honduras?
- A. Guitarra
 - B. Piano
 - C. Marimba
 - D. Flauta


1 ¿Cuál de estos dibujos representa un trabajo en equipo?



Subir al bus



Comprar frutas



Reparar computadoras



Celebrar cumpleaños

2 La tala de los bosques, provoca en el suelo lo siguiente:

- A. Se vuelve más fértil para las siembras.
- B. Pierde todos los nutrientes necesarios para la siembra.
- C. Se puede convertir en una selva.
- D. Los animales tienen más alimento.

3 ¿Que acción provoca que los ríos se sequen?

- A. El uso del agua para navegar.
- B. Cortar los árboles que se encuentran cerca de los ríos.
- C. Desviar el cauce natural hacia otro río.
- D. Tirar desperdicios en la calle.

4 ¿Por qué son importantes los monumentos históricos de un departamento?

- A. Para que se vea pobre.
- B. Para conocer su historia.
- C. Para que lleguen los deportistas.
- D. Para ir a pasear a la playa.

5 ¿Cuál de estos lugares representan parte de la historia de tu municipio?

A.



Iglesia

B.



Cancha de fútbol

C.



Farmacia

D.



Juegos infantiles

6 ¿Cuál de los siguientes libros contiene el registro de las primeras personas que nacieron en nuestro municipio?

- A. El libro de votantes.
- B. El libro de nacimientos de la población.
- C. El libro de matrícula de la escuela.
- D. El libro de bodas de nuestra comunidad.

7 ¿Qué representan los objetos históricos de un municipio o departamento?

- A. Su propia identidad e historia.
- B. Cosas de valor para vender.
- C. Las cosas que tienen las familias.
- D. Un lugar bonito para vivir.

8 ¿Cuál de estos objetos familiares representa un objeto histórico familiar?

- A. La computadora que se compró hace seis meses.
- B. La foto de la boda de nuestros padres.
- C. El celular que fue un regalo de navidad.
- D. La vajilla que se le dio a mamá el día de la madre.

9 ¿En qué lugar de estos, se guardan los objetos históricos de una comunidad?

- A. Parque
- B. Mercado
- C. Museo
- D. Escuela

10 ¿Qué celebración religiosa se realiza todos los años en nuestro país?

- A. La independencia.
- B. La navidad.
- C. La semana santa.
- D. Las vacaciones.


11 ¿Cuál de estas celebraciones representa un acontecimiento histórico en tu municipio?

- A. Las elecciones municipales.
- B. Las fiestas navideñas.
- C. El día de la madre.
- D. El día del padre.

12 ¿Qué dibujo representa la celebración un hecho histórico?



Día de la Independencia



Día del Maestro



Día de la Madre



Día del Padre

13 Nombra tres lugares históricos que hay en tu departamento:

A. _____

B. _____

C. _____


1 ¿Qué actividad asegura el progreso de la comunidad?

- A. Cercar las tierras.
- B. Reparar la alcaldía.
- C. Caminar en grupo.
- D. Trabajar unidos.

2 ¿Cuál de las siguientes acciones es una práctica de cooperación en la escuela?




Sentarse en una esquina



Jugar en el patio



Trabajar en equipo



Hablar en clase

3 ¿Qué podemos hacer con el compañero que tiene dificultad para estudiar?

- A. Prestarle dinero.
- B. Darle apoyo y trato amable.
- C. Llevarlo a pasear.
- D. Cuidarle los cuadernos.

- 4 Durante el examen de matemáticas, Juanita y Pedro, estuvieron consultándose uno con el otro, la profesora Francisca los vió y les llamó la atención pero no les quitó el examen a ninguno de los dos, ambos alumnos continuaron copiándose el examen y la profesora entonces les quitó el examen, lo más seguro es que ellos saldrán aplazados en matemáticas.

¿Cómo crees que fue la reacción de la profesora Francisca a lo que estaban haciendo Juanita y Pedro?

- A. Injusta porque saldrán aplazados.
- B. Justa porque no debían estarse copiando el examen.
- C. Injusta porque se los hubiera quitado desde la primera vez.
- D. Justa porque estaban cansados.

- 5 **¿Qué acción debemos evitar al momento de celebrar actividades de la comunidad?**

- A. Respetar lo ajeno.
- B. Cooperar con los demás.
- C. Botar la basura en el piso.
- D. Esperar el turno en la fila.

- 6 **¿Esta celebración se realiza para festejar el santo patrono de la comunidad?**

- A. Desfiles patrios.
- B. Semana santa.
- C. Feria patronal.
- D. El día de Lempira.

7 ¿Qué representan las cinco estrellas de la Bandera Nacional?

- A. Los departamentos de Honduras.
- B. Los lugares más importantes.
- C. Los países de Centroamérica.
- D. Los océanos que bañan nuestras costas.

8 ¿Cuál de estos elementos es parte de nuestra tradición como hondureños?

- A. Celebrar el día de brujas.
- B. La música folklórica.
- C. El idioma inglés.
- D. Ir a la escuela.

9 ¿Es la autoridad que dirige un municipio?

- A. El banco
- B. Secretaria
- C. Alcalde
- D. Tesorero

10 ¿Cuál de las siguientes instituciones es una organización social encargada de atender los enfermos de tu comunidad?


- A. La gasolinera.
- B. El parque.
- C. El Hospital.
- D. La pulpería.

11 ¿Quién representa el poder judicial en tu departamento?

- A. La enfermera.
- B. El alcalde.
- C. El juez.
- D. La policía.

12 ¿Grupo de personas que forman una organización agrícola?

- A.
- B.
- C.
- D.



Los ganaderos



Los maestros



Los agricultores



Los comerciantes

13 Escribe a la par de cada dibujo la organización social que representan y la importancia que tienen para tu comunidad:



Bomberos



Hospital



Esuela

1 ¿Qué actitud debemos mostrar ante los símbolos patrios?

- A. Amistad y paz.
- B. Respeto y amor.
- C. Esperanza.
- D. Justicia.





2 ¿Símbolo nacional que representa los ideales y la riqueza de la patria?

- A. El Escudo.
- B. La Bandera.
- C. El mapa.
- D. La guara.

3 ¿Qué simboliza el triángulo equilátero de nuestro Escudo Nacional?

- A. La riqueza de nuestro país.
- B. La unión de los trabajadores.
- C. La igualdad entre los hondureños.
- D. La fortaleza del pueblo hondureño.

4 ¿Qué símbolo representa nuestro territorio?

- | | | | |
|---|---|---|--|
| <input type="radio"/> A. | <input type="radio"/> B. | <input type="radio"/> C. | <input type="radio"/> D. |
|  |  |  |  |
| Bandera | Escudo | Mapa de Honduras | El Pino |

- 5** ¿Qué relata la letra de nuestro Himno Nacional?
- A. Habla sobre la belleza de la población.
 - B. Relata la historia de nuestro país.
 - C. Es una poesía a la naturaleza.
 - D. Es una canción folklórica del país.
- 6** ¿Qué representa la celebración de la semana santa?
- A. Fiesta folklórica.
 - B. Fiestas patrias.
 - C. Tradición religiosa.
 - D. Concursos de belleza.
- 7** ¿Qué tipo de comida tradicional se acostumbra comer durante la semana santa?
- A. Arroz con pollo.
 - B. Pescado.
 - C. Cerdo ahumado.
 - D. Pastel.
- 8** ¿Cómo se le llama a la forma de vida de una comunidad?
- A. Celebración
 - B. Costumbres
 - C. Familiar
 - D. Feria

9 ¿Cómo se les llama a las personas que trabajan y reciben un sueldo a cambio?

- A. Obreros
- B. Desempleados
- C. Migrantes
- D. Comerciantes

10 ¿Cómo se les llama a las personas que venden en el mercado?

- A. Emigrantes
- B. Extranjeros
- C. Mestizos
- D. Comerciantes

11 ¿Qué actividad económica se realiza en el campo?

- A. Fabricación de ropa.
- B. La siembra de granos básicos.
- C. Operaciones bancarias.
- D. Construcción de grandes edificios.

12 ¿Cuál es la principal actividad económica de nuestro país?

- A. La fabricación de partes de automóviles.
- B. La venta de computadoras.
- C. La agricultura.
- D. La alfarería.

13 Escribe el nombre de tres personas que han sobresalido en el desarrollo de su comunidad

A. _____

B. _____

C. _____

1 ¿Derecho que deben gozar los niños y niñas hondureñas?

- A. Viajar fuera del país.
- B. Tener un celular.
- C. Trabajan en las vacaciones.
- D. Asistir a la escuela.

2 ¿Qué derecho se cumple cuando un niño enfermo es llevado al hospital?

- A. El derecho a tener educación.
- B. El derecho a la salud.
- C. El derecho a la diversión.
- D. El derecho a tener un nombre.

3 ¿Cuál de estas actividades se realiza en la escuela y la comunidad?

- A. La feria de ciencias.
- B. Las elecciones nacionales.
- C. El día del niño.
- D. El día de Lempira.

4 ¿Cuál de estos productos se hacen en Honduras?

- A. Los perfumes.
- B. La leche en polvo.
- C. El aceite de cocina.
- D. Los carros.

5 ¿Cómo se le llama a la relación que se dá, entre la persona que produce y la persona que consume un producto?

- A. Productiva
- B. Comercio
- C. Afectiva
- D. Religiosa

6 Servicio público que posibilita la comunicación en la comunidad?

- A. Telefonía.
- B. Electricidad.
- C. La vigilancia.
- D. El agua potable.

7 ¿Cuál es la importancia de aprender a ahorrar?

8 ¿Qué nos permite la práctica de los valores entre los miembros de una comunidad o departamento?

- A. La desobediencia de las leyes.
- B. La defensa de nuestros beneficios.
- C. Mejorar nuestras ganancias.
- D. La convivencia social armónica.

9 ¿En qué actividad escolar y de la comunidad se practica la democracia?

- A. En las celebraciones cívicas.
- B. En las clases de educación física.
- C. En los recreos de la escuela.
- D. En las elecciones de las autoridades.

10 ¿Por qué son importantes las actividades comerciales para una comunidad o departamento?

- A. Para vender lo inservible.
- B. Para comprar lo que necesitamos.
- C. Tener muchas cosas para comer.
- D. Para que la gente salga de la ignorancia.

11 ¿Quién es la máxima autoridad de un municipio?

- A. El jefe de la policía.
- B. La directora de la escuela.
- C. El alcalde.
- D. El sacerdote.

12 ¿En qué institución se encuentra el registro de todos los nacimientos del municipio?

- A. En el hospital.
- B. En la iglesia.
- C. En el registro de las personas.
- D. En los archivos de la alcaldía.

13 ¿Cuál es una de las funciones de la alcaldía municipal?

- A. Representar a los pobladores de un municipio.
- B. Administrar los fondos del departamento.
- C. Llevar los libros de nacimiento de la población.
- D. Controlar la matrícula de los colegios.



Estos materiales son posibles gracias al apoyo técnico del Proyecto Mejorando el Impacto al Desempeño Estudiantil de Honduras (MIDEH) financiado por pueblo y gobierno de Estados Unidos de América a través de la Agencia de Estados Unidos para el Desarrollo Internacional (USAID).

