



República de Honduras
Secretaría de Educación

Pruebas Formativas Trimestrales Educación Prebásica

Tercera Prueba
Agosto, septiembre y octubre

Año 2014

Nombre del alumno/a: _____

Nombre del maestro/a: _____

Departamento: _____ Municipio: _____

Centro educativo: _____ Comunidad: _____

PRESENTACIÓN

Estimado alumno y alumna de Prebásica:

***E**n el presente año tendrá en sus manos el cuadernillo que contiene las Pruebas Formativas Trimestrales para que las desarrolles siguiendo las indicaciones que te daará tu maestra(o).*

Al finalizar cada trimestre, procure resolver en forma individual las pruebas correspondientes a su nivel educativo. Encontrará una serie de ítems de selección múltiple, es decir un enunciado o pregunta y luego cuatro opciones. Usted debe seleccionar una sola respuesta de manera que su profesor o profesora le explique. Escuche atentamente las instrucciones.

Cada prueba está constituida por una serie de ítems (preguntas) de selección multiple, deberá seleccionar una respuesta, la que tu consideres correcta.

Las pruebas son indicadores que nos permitirán conocer los avances y los reforzamientos oportunos, que se constituirán en aportes fundamentales para el logro de tus metas en el camino de la educación y la vida.

“El futuro de los niños es siempre hoy. Mañana será tarde”.

Gabriela Mistral

Prebásica

Instrucciones para el/la docente:

- El o la docente aplica esta prueba de forma dirigida.
- Lee dos veces cada ítem y explica a los niños y niñas que deben seleccionar únicamente una respuesta, rellenando el círculo de la opción correcta.



AGOSTO, SEPTIEMBRE, OCTUBRE

1. ¿Cuál es la Bandera Nacional de Honduras?



A



B



C



D



2. ¿Cuál es el Árbol Nacional de Honduras?



A



B



C



D



3. ¿Cuál es el mapa que representa a Honduras?



A



B



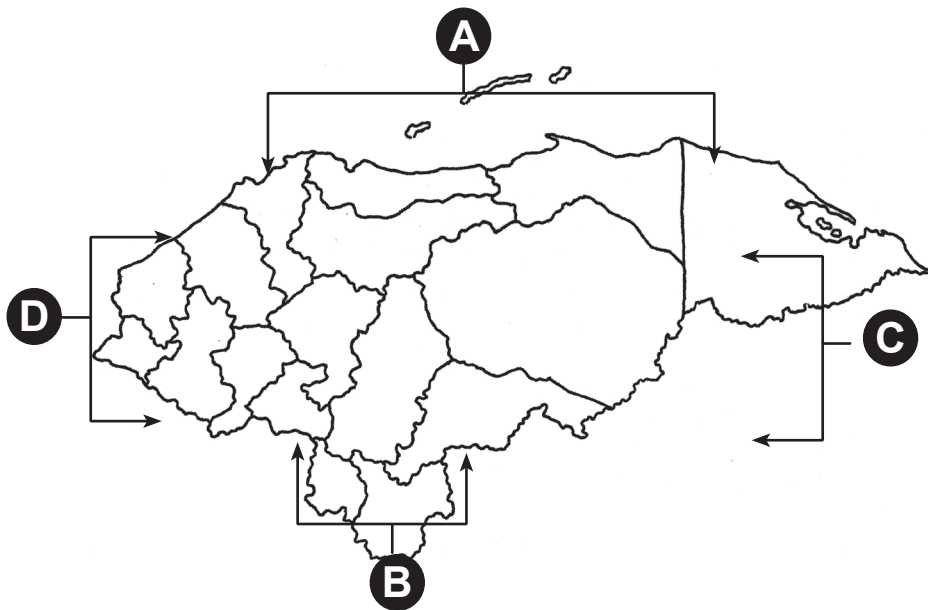
C



D



4. ¿Cuál es la letra que señala la zona norte de Honduras?



A

B

C

D

5. ¿Qué imagen representa al pueblo garífuna de Honduras?



A



B



C




D


6. Es un medio de comunicación escrita:



A



B



C



D

7. ¿Cuál es un medio de transporte aéreo?



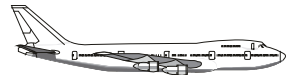
A



B

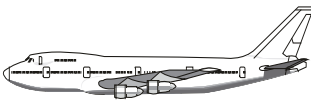


C



D

8. ¿Cuál es un medio de transporte terrestre?



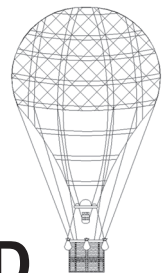
A



B




C



D

9. ¿Qué imagen representa el día?



A



B



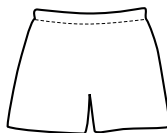
C



D

10. ¿Qué objeto se encuentra a la derecha del niño?

A



B



D



C



11. ¿Qué jarrón tiene una flor delante?




A



B



C



D



Escuche la lectura del siguiente cuento:

LA HORMIGA

Había una vez una hormiga que quería ir al río pero como no podía nadar; se puso a llorar. ¿Cómo puedo ir ahora? Se preguntó la hormiga, si no tengo una amiga para que me pueda ayudar.

12. ¿Qué animal se menciona en el relato?



A



B



C



D

13. Al no poder nadar ¿qué hizo la hormiga?



A



B



C




D


14. ¿Dónde quería ir la hormiga?



A



B



C



D

15. ¿Cuál es la letra con la que inicia la palabra elefante?

h

A

a

B

b

C

e

D

16. ¿Cuál es la letra con la que inicia la palabra uña?

q

A

u

B

s

C

t

D

17. ¿Qué nombres de los siguientes dibujos riman?




A



B



C

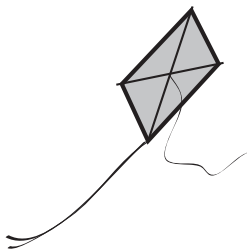


D


18. ¿Qué dibujo rima con la palabra masa?



A



B



C



D

19. ¿Qué vaso está vacío?



A



B




C



D

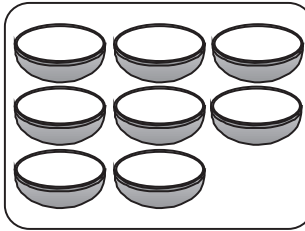
20. ¿Qué conjunto tiene seis elementos?



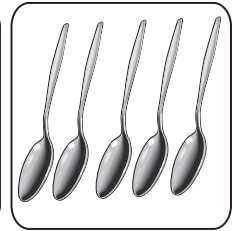
A



B




C




D


21. ¿Cuántos son dos perros más dos perros?



A



B

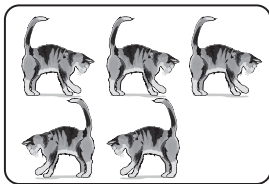


C




D


22. Cuántos son tres gatos más dos gatos?




A



B




C



D

23. ¿Cuál es la manzana que representa la unidad?




A



B



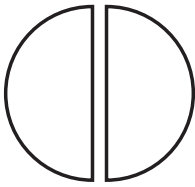
C




D



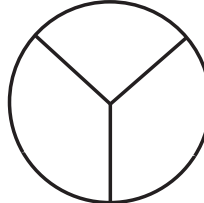
24. ¿Dónde está la unidad dividida en tres partes?




A



B



C



D



25. ¿Cuál gato ocupa el primer lugar en la fila?



A



B



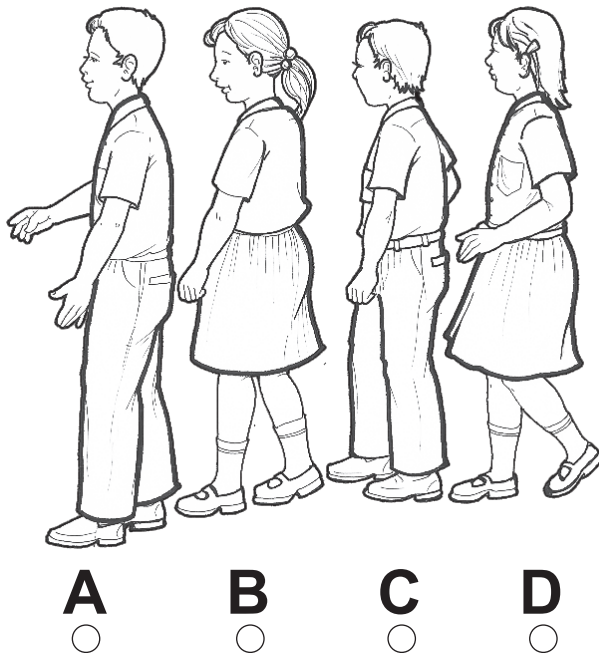
C




D



26. ¿Cuál niño ocupa el tercer lugar en la fila?



Estos materiales son posibles gracias al apoyo técnico del Proyecto Mejorando el Impacto al Desempeño Estudiantil de Honduras (MIDEH) financiado por pueblo y gobierno de Estados Unidos de América a través de la Agencia de Estados Unidos para el Desarrollo Internacional (USAID).



La educación es la primera
necesidad de un pueblo
José Cecilio del Valle