



República de Honduras  
Secretaría de Educación

# Pruebas Formativas Mensuales

Español y  
Matemáticas

Estándares

Instructivo

Diseño Curricular

Programaciones

Evaluación

Materiales  
Educativos

Año 2011

Nombre del alumno/a: \_\_\_\_\_

Nombre del maestro/a: \_\_\_\_\_

Departamento: \_\_\_\_\_ Municipio: \_\_\_\_\_

Escuela: \_\_\_\_\_

**1<sup>er</sup>**  
grado

## **PRESENTACIÓN**

**E**n el presente año tendrá en sus manos el cuaderno que contiene las Pruebas Formativas Mensuales para que pueda saber cuánto ha aprendido durante cada mes de clases y en qué necesita ayuda.

*Al finalizar cada mes, procure resolver en forma individual las pruebas correspondientes a Español y Matemáticas. En Español encontrará dos tipos de ítems: selección múltiple en lectura y ejercicios de redacción en Escritura. En Matemáticas encontrará ítems de selección múltiple y de respuesta escrita.*

*Si contesta correctamente todas las preguntas, puede estar seguro que va por buen camino y que su nivel es **Avanzado**; así, tendrá la oportunidad de ayudar a sus compañeros y compañeras que todavía no han logrado los conocimientos correspondientes al mes.*

*Si al contestar las preguntas encuentra alguna dificultad, significa que necesita más horas de estudio y quizá ayuda de su maestro o maestra o de los estudiantes más avanzados. Recuerde que Español y Matemáticas son materias muy importantes para que pueda avanzar con éxito durante sus estudios.*

*Informe a su mamá, a su papá u otros familiares sobre sus resultados en esta prueba, en qué aspectos marcha bien y en cuáles necesita más apoyo.*

*Sus padres, maestros y maestras, compañeros y compañeras constituirán el mejor respaldo para seguir adelante.*

# Español

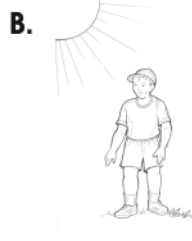




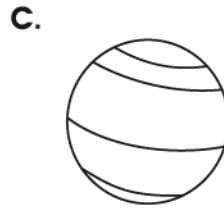
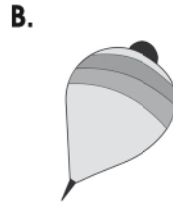
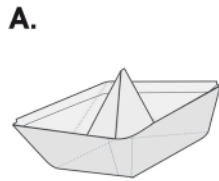
**FEBRERO Y MARZO**

1.  A. Santa  
 B. Ada  
 C. María  
 D. Celia

2.  A.  
 B.  
 C.  
 D.



3.  A.  
 B.  
 C.  
 D.



4.  A.  
 B.  
 C.  
 D.



B. FELIPE



D. José

Pruebas Formativas Mensuales - Febrero y marzo

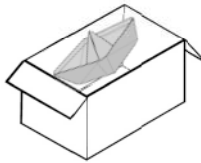
5.

- A.
- B.
- C.
- D.

A.



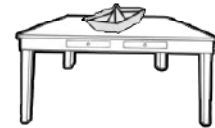
B.



C.



D.



6.

---



---


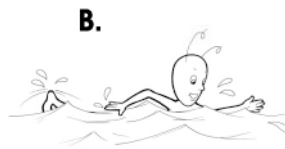

FIN DE LA PRUEBA

Tabla de resultados de la prueba  
Febrero y marzo - Primer grado

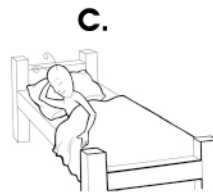
LECTURA				ESCRITURA			
Insatisfactorio	Debe Mejorar	Satisfactorio	Avanzado	Insatisfactorio	Debe Mejorar	Satisfactorio	Avanzado
0 - 8	9 - 11	12 - 14	15	0 - 4	5 - 6	7 - 8	9 - 10
<input type="radio"/>	<input type="radio"/>	<input type="radio"/>	<input type="radio"/>	<input type="radio"/>	<input type="radio"/>	<input type="radio"/>	<input type="radio"/>

**ABRIL**


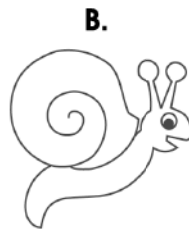

1.  A.  
 B.  
 C.  
 D.



2.  A.  
 B.  
 C.  
 D.



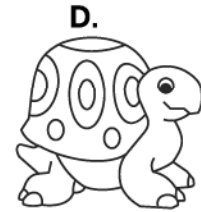


3.  A.  
 B.  
 C.  
 D.



4.  A. ¡Corra, corra, corra!  
 B. ¡Salte, salte, salte!  
 C. ¡Coma, coma, coma!  
 D. ¡Suba, suba, suba!

Pruebas Formativas Mensuales - Abril

5.  A.  
 B.  
 C.  
 D.



6. \_\_\_\_\_  
 \_\_\_\_\_  
 \_\_\_\_\_

FIN DE LA PRUEBA

**Tabla de resultados de la prueba  
Abril - Primer grado**

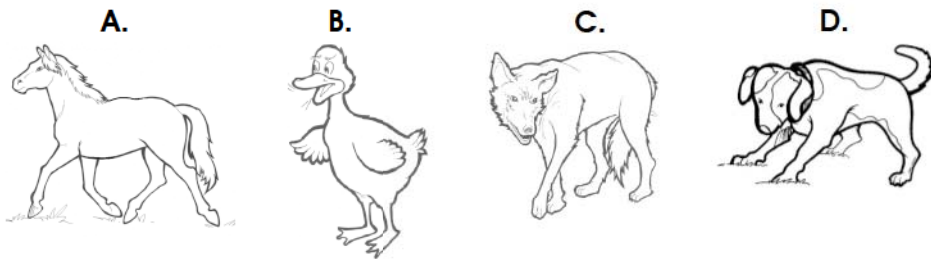
LECTURA				ESCRITURA			
Insatisfactorio	Debe Mejorar	Satisfactorio	Avanzado	Insatisfactorio	Debe Mejorar	Satisfactorio	Avanzado
0 - 8	9 - 11	12 - 14	15	0 - 4	5 - 6	7 - 8	9 - 10
<input type="radio"/>	<input type="radio"/>	<input type="radio"/>	<input type="radio"/>	<input type="radio"/>	<input type="radio"/>	<input type="radio"/>	<input type="radio"/>



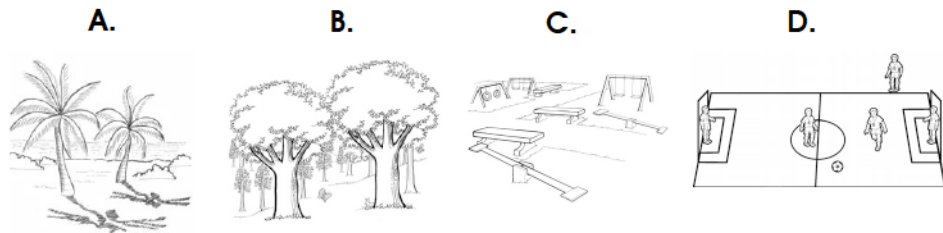
**MAYO**

1.  A. Veloz  
 B. Lindo  
 C. Listo  
 D. Feroz

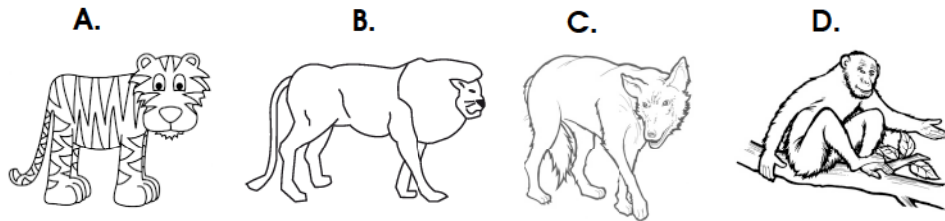
2.  A.  
 B.  
 C.  
 D.



3.  A.  
 B.  
 C.  
 D.



4.  A.  
 B.  
 C.  
 D.



Pruebas Formativas Mensuales - Mayo

5.

- A. ¡No te vayas!
- B. ¡No te asustes!
- C. ¡Ten cuidado!
- D. ¡Hola patito!

6.

1. ¿Qué animal es?
2. ¿Cómo se llama?
3. ¿De qué color es?

SE BUSCA	
1.	
2.	
3.	


FIN DE LA PRUEBA

Tabla de resultados de la prueba  
Mayo - Primer grado

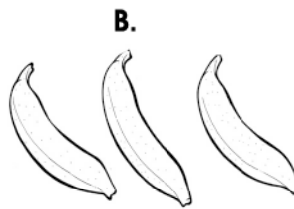
LECTURA				ESCRITURA			
Insatisfactorio	Debe Mejorar	Satisfactorio	Avanzado	Insatisfactorio	Debe Mejorar	Satisfactorio	Avanzado
0 - 8	9 - 11	12 - 14	15	0 - 4	5 - 6	7 - 8	9 - 10
<input type="radio"/>	<input type="radio"/>	<input type="radio"/>	<input type="radio"/>	<input type="radio"/>	<input type="radio"/>	<input type="radio"/>	<input type="radio"/>

# JUNIO

1.  A.  
 B.  
 C.  
 D.

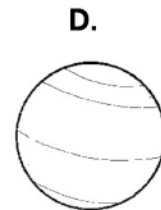
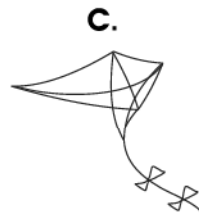


2.  A.  
 B.  
 C.  
 D.







3.  A. ¡Qué rico!  
 B. ¡Qué pena!  
 C. ¡Qué bonito!  
 D. ¡Qué alegría!

4.  A.  
 B.  
 C.  
 D.



Pruebas Formativas Mensuales - Junio

5.  A.  B.  C.  D.

A.  B.  C.  D. 

6. **Mamá:**

---



---



---

Nombre: \_\_\_\_\_

**FIN DE LA PRUEBA**

**Tabla de resultados de la prueba  
Junio - Primer grado**

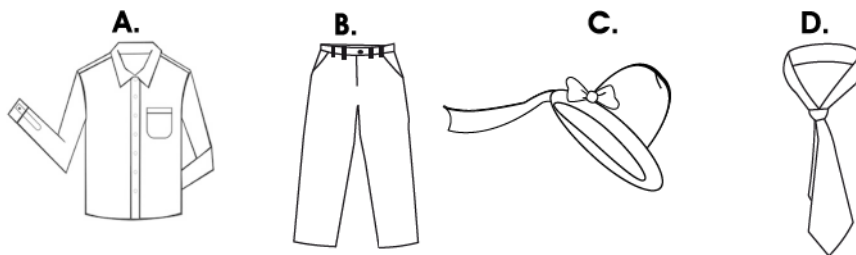
<b>LECTURA</b>				<b>ESCRITURA</b>			
Insatisfactorio	Debe Mejorar	Satisfactorio	Avanzado	Insatisfactorio	Debe Mejorar	Satisfactorio	Avanzado
0 - 8	9 - 11	12 - 14	15	0 - 4	5 - 6	7 - 8	9 - 10
<input type="radio"/>	<input type="radio"/>	<input type="radio"/>	<input type="radio"/>	<input type="radio"/>	<input type="radio"/>	<input type="radio"/>	<input type="radio"/>

# JULIO

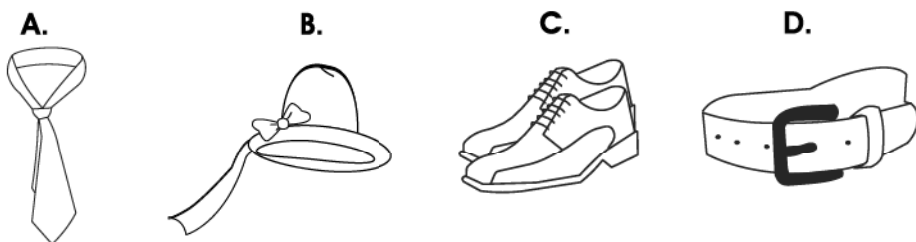
1.  A. Tuti  
 B. Bini  
 C. Poni  
 D. Tatí

2.  A. Con su hermano Fredi.  
 B. Con su tía María.  
 C. Con su prima Lulú.  
 D. Con su amigo Tatí.

3.  A.  
 B.  
 C.  
 D.



4.  A.  
 B.  
 C.  
 D.



Pruebas Formativas Mensuales - Julio

5.  A.  
 B.  
 C.  
 D.



6.




---



---



---



---



---

FIN DE LA PRUEBA

Tabla de resultados de la prueba  
 Julio - Primer grado

LECTURA				ESCRITURA			
Insatisfactorio	Debe Mejorar	Satisfactorio	Avanzado	Insatisfactorio	Debe Mejorar	Satisfactorio	Avanzado
0 - 8	9 - 11	12 - 14	15	0 - 4	5 - 6	7 - 8	9 - 10
<input type="radio"/>	<input type="radio"/>	<input type="radio"/>	<input type="radio"/>	<input type="radio"/>	<input type="radio"/>	<input type="radio"/>	<input type="radio"/>

## AGOSTO

**Instrucciones:**

**Lea el siguiente texto y responda las preguntas rellenando el círculo de la letra que corresponde a la respuesta correcta.**

### CARLOS VA A LA ESCUELA

Son las seis de la mañana.

Debo levantarme para ir a la escuela. Mi maestra me espera, la clase ya empieza. Suena la campana y todos con una cuerda nos vamos a jugar.



**1. ¿A qué hora se levanta Carlos?**

- A. A las seis.
- B. A las tres.
- C. A las ocho.
- D. A las nueve.

**2. ¿A dónde va Carlos?**

- A. Al parque.
- B. A la escuela.
- C. Al río.
- D. A la iglesia.

**3. En la historia, ¿quién espera a Carlos?**

- A. Su hermana.
- B. Su abuela.
- C. Su mamá.
- D. Su maestra.

4. ¿Qué hacen los niños cuando suena la campana?

- A. Estudian
- B. Comen
- C. Juegan
- D. Cantan

5. ¿Para qué usan la cuerda los niños?

- A. Para amarrar.
- B. Para saltar.
- C. Para trabajar.
- D. Para colgar.

6. Observe el dibujo. Escriba un diálogo entre la zorra, el mono y el lobo.



---

---

---

---

---

FIN DE LA PRUEBA

Tabla de resultados de la prueba  
Agosto - Primer grado

LECTURA				ESCRITURA			
Insatisfactorio	Debe Mejorar	Satisfactorio	Avanzado	Insatisfactorio	Debe Mejorar	Satisfactorio	Avanzado
0 - 8	9 - 11	12 - 14	15	0 - 4	5 - 6	7 - 8	9 - 10
<input type="radio"/>	<input type="radio"/>	<input type="radio"/>	<input type="radio"/>	<input type="radio"/>	<input type="radio"/>	<input type="radio"/>	<input type="radio"/>



## SEPTIEMBRE

**Instrucciones:**

**Lea el siguiente texto y responda las preguntas rellenando el círculo de la letra que corresponde a la respuesta correcta.**

**EL RATÓN Y LA HORMIGA**

Había una vez un ratoncito que le gustaba leer mucho. Un día cuando leía, llegó una hormiguita y le dijo:  
—¡Hola ratoncito!  
Vengo de lejos y no he podido comer.  
—¡Ven, cómete este queso!— le contestó.  
—¡Gracias, ratoncito!— le dijo muy contenta.

**1. ¿Qué quiere la hormiguita?**

- A. Caminar
- B. Comer
- C. Llorar
- D. Bailar

**2. ¿Qué le gusta hacer al ratoncito?**

- A. Leer
- B. Jugar
- C. Dormir
- D. Escribir

**3. ¿Cómo se siente la hormiga cuando llega?**

- A. Asustada
- B. Cansada
- C. Enferma
- D. Aburrida

4. ¿Qué le da el ratón a la hormiguita?

- A. Carne
- B. Tortilla
- C. Fruta
- D. Queso

5. ¿De dónde viene la hormiguita?

- A. De su casa.
- B. De lejos.
- C. Del río.
- D. De la escuela.

6. Escriba sobre el animal que más le gusta.

---

---

---

---

---

---

---

FIN DE LA PRUEBA

Tabla de resultados de la prueba  
Septiembre - Primer grado

LECTURA				ESCRITURA			
Insatisfactorio	Debe Mejorar	Satisfactorio	Avanzado	Insatisfactorio	Debe Mejorar	Satisfactorio	Avanzado
0 - 8	9 - 11	12 - 14	15	0 - 4	5 - 6	7 - 8	9 - 10
<input type="radio"/>	<input type="radio"/>	<input type="radio"/>	<input type="radio"/>	<input type="radio"/>	<input type="radio"/>	<input type="radio"/>	<input type="radio"/>

**OCTUBRE Y NOVIEMBRE**

**Instrucciones:**

**Lea el siguiente texto y responda las preguntas rellenando el círculo de la letra que corresponde a la respuesta correcta.**

**LA LAGUNA DE LOS PECES**

Cinco pececitos conversaban:

— ¡Cómo tiran desperdicios aquí!

—Esta agua está muy sucia.

Un pececito dijo: hablemos con las personas y les pedimos que nos ayuden a limpiar y cuidar la laguna.

Todos ayudaron y la basura desapareció.



**1. ¿Qué hacen los pececitos?**

- A. Juegan
- B. Conversan
- C. Gritan
- D. Saltan

**2. ¿Cómo está el agua?**

- A. Limpia
- B. Sucia
- C. Quieta
- D. Helada

**3. ¿Qué pensaron los pececitos?**

- A. Irse
- B. Protestar
- C. Llorar
- D. Limpiar

**4. ¿Qué piden los peces a las personas?**

- A. Ayuda
- B. Comida
- C. Basura
- D. Agua

**5. ¿Cómo quedó la laguna?**

- A. Sola
- B. Triste
- C. Limpia
- D. Sucia

**6. Escriba una carta a un amigo y cuénteles que hará en vacaciones.**

*San Luis, 15 de octubre*

**Querido amigo:**

---

---

---

---

---

---

\_\_\_\_\_

**Nombre**

**FIN DE LA PRUEBA**

**Tabla de resultados de la prueba  
Octubre y noviembre - Primer grado**

<b>LECTURA</b>				<b>ESCRITURA</b>			
<b>Insatisfactorio</b>	<b>Debe Mejorar</b>	<b>Satisfactorio</b>	<b>Avanzado</b>	<b>Insatisfactorio</b>	<b>Debe Mejorar</b>	<b>Satisfactorio</b>	<b>Avanzado</b>
0 - 8	9 - 11	12 - 14	15	0 - 4	5 - 6	7 - 8	9 - 10
<input type="radio"/>	<input type="radio"/>	<input type="radio"/>	<input type="radio"/>	<input type="radio"/>	<input type="radio"/>	<input type="radio"/>	<input type="radio"/>

Pruebas Formativas Mensuales

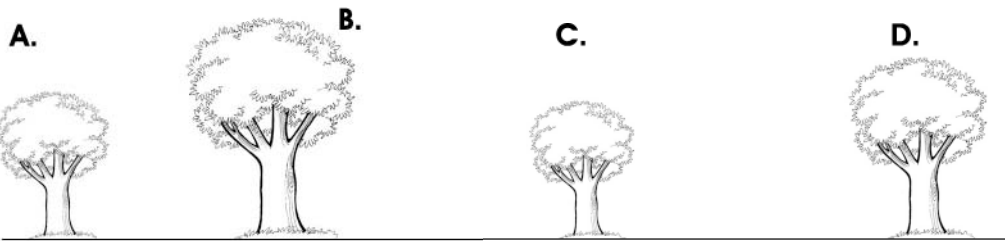
# Matemáticas






**FEBRERO Y MARZO**


1.



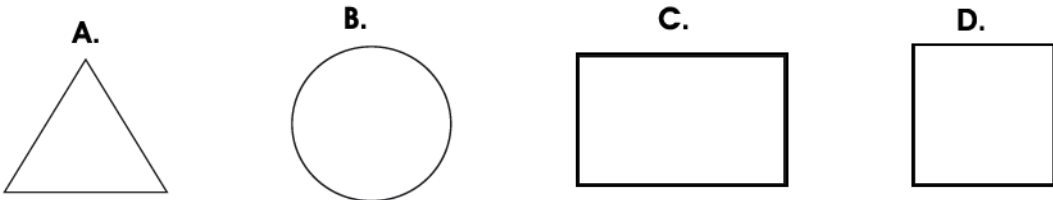
2.



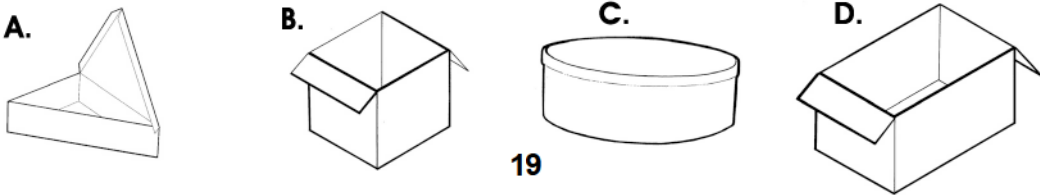
3.



4.

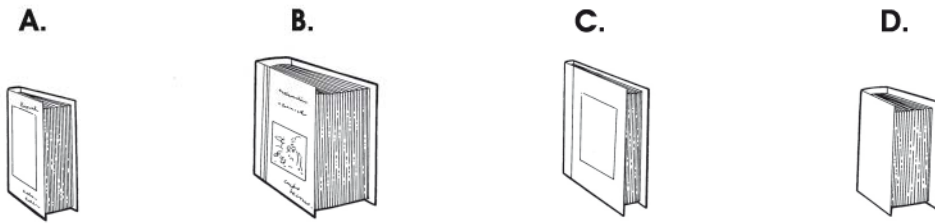


5.




Pruebas Formativas Mensuales - Febrero y marzo

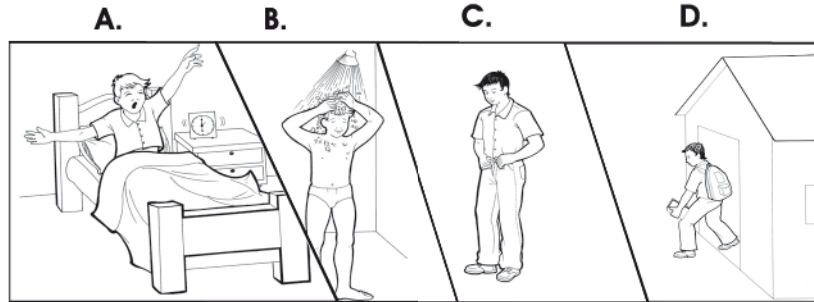
6.



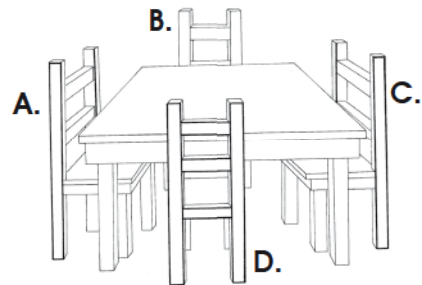
7.



8.




9.

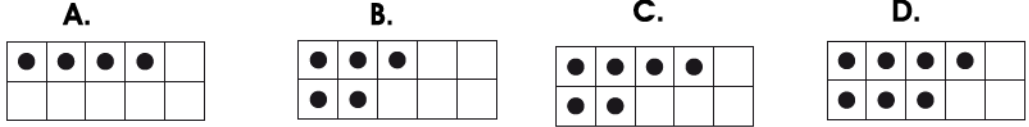




10.



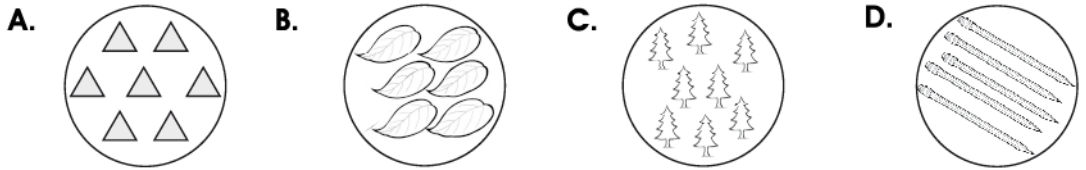
11.



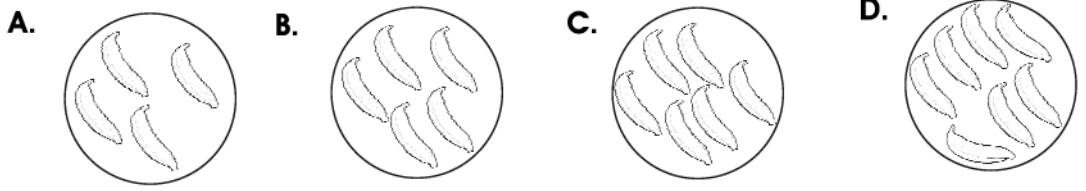
12.



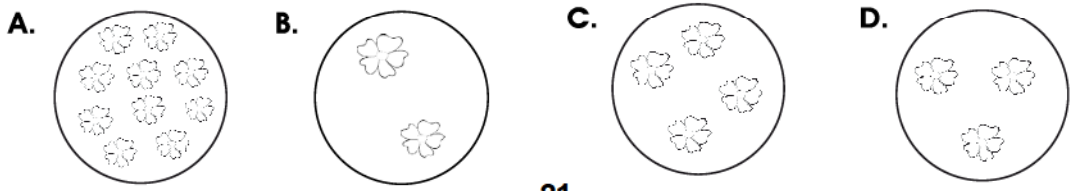
13.



14.

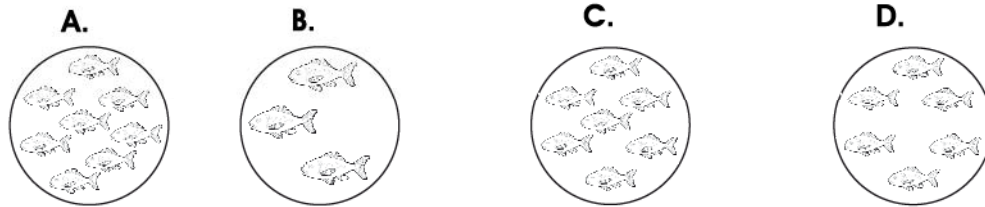


15.




Pruebas Formativas Mensuales - Febrero y marzo

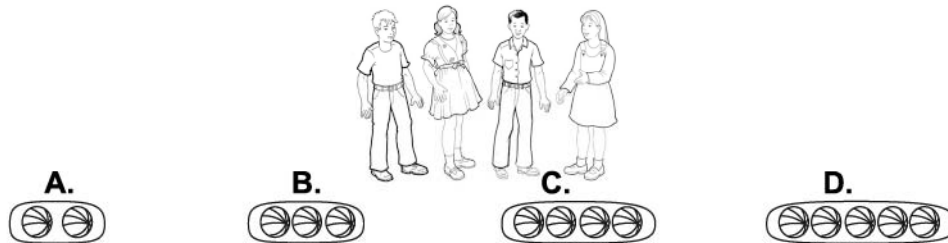
16.



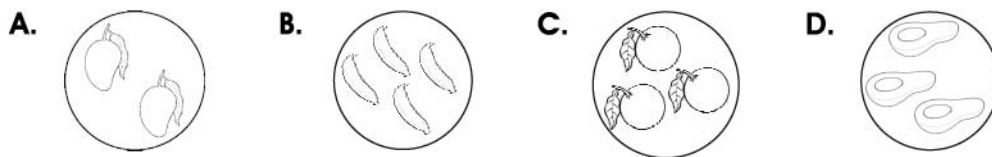
17.



18.



19.



**FIN DE LA PRUEBA**


**Tabla de resultados de la prueba  
Febrero y marzo - Primer grado**

Insatisfactorio	Debe Mejorar	Satisfactorio	Avanzado
0 - 18	19 - 30	31 - 45	46 - 57
○	○	○	○

**ABRIL**

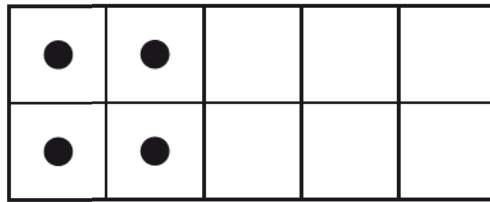
1.

- A. 2
- B. 3
- C. 4
- D. 5

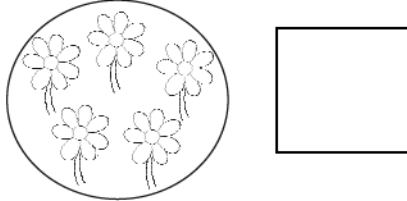


2.


- A. 2
- B. 3
- C. 4
- D. 5



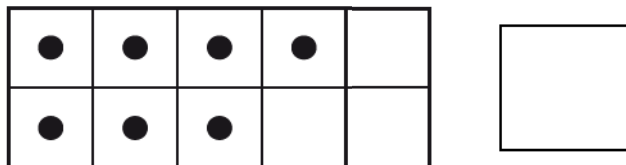
3.



4.




5.



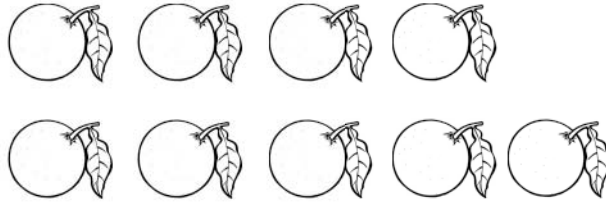
Pruebas Formativas Mensuales - Abril

6.

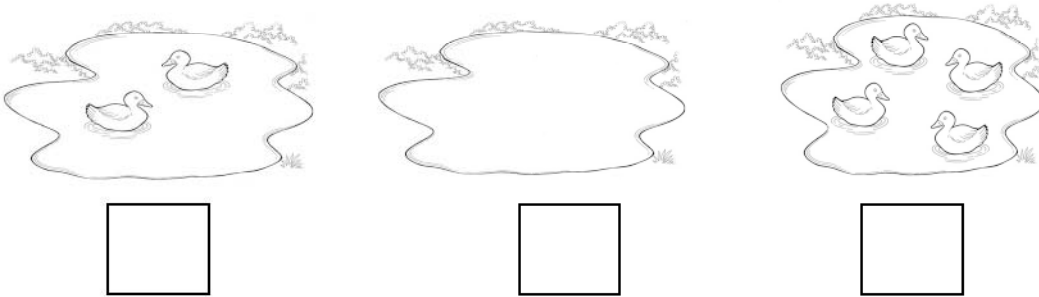


7.

- A. 9
- B. 7
- C. 6
- D. 4



8.



9.

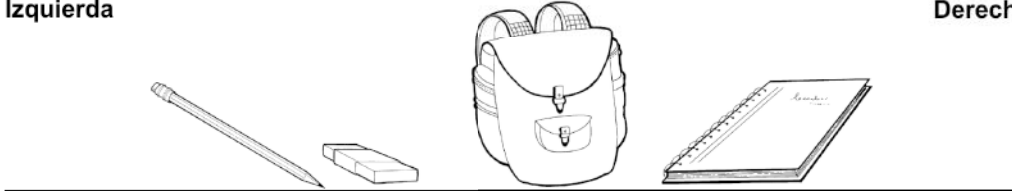
- A. 1
- B. 2
- C. 3
- D. 4

●				
●				

10.

Izquierda

Derecha




11.

Izquierda

Derecha

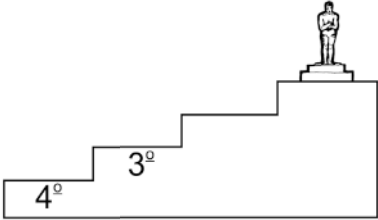


12.



13.

- A. 7°
- B. 5°
- C. 2°
- D. 1°



Pruebas Formativas Mensuales - Abril

14.



15.

3°, \_\_\_\_\_, \_\_\_\_\_, 6°, \_\_\_\_\_, \_\_\_\_\_, 9°

FIN DE LA PRUEBA

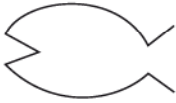
Tabla de resultados de la prueba  
Abril - Primer grado

Insatisfactorio	Debe Mejorar	Satisfactorio	Avanzado
0 - 20	21 - 28	29 - 37	38 - 45
<input type="radio"/>	<input type="radio"/>	<input type="radio"/>	<input type="radio"/>

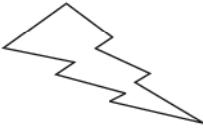
**MAYO**

1.

A.



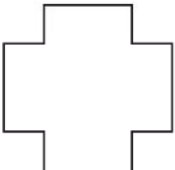
B.



C.



D.




2.

A.



B.



C.



D.

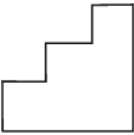


3.

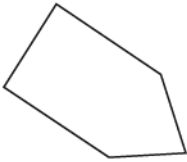
A.



B.



C.




D.



4.

A.



B.



C.

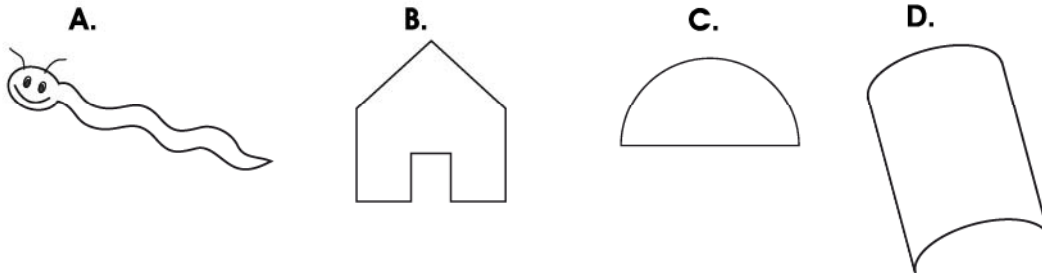


D.

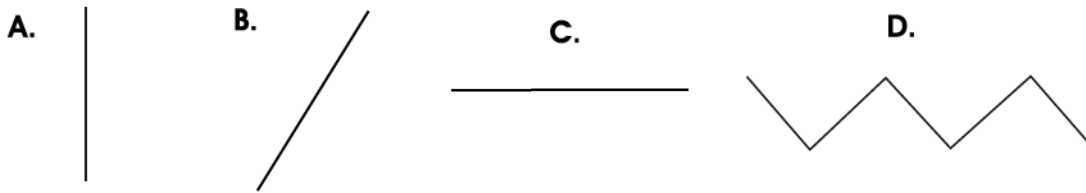


Pruebas Formativas Mensuales - Mayo

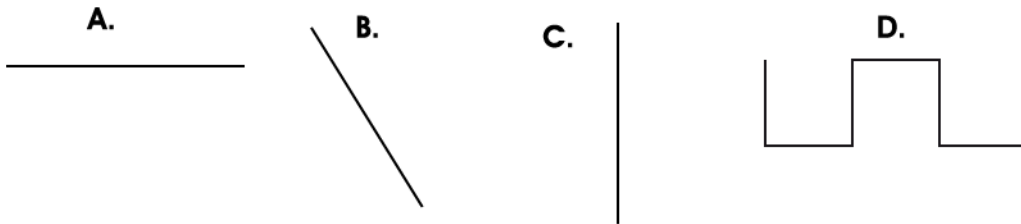
5.



6.

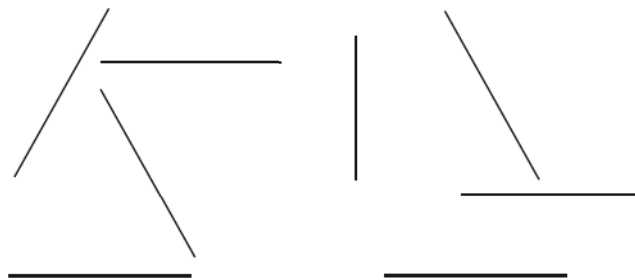


7.



8.

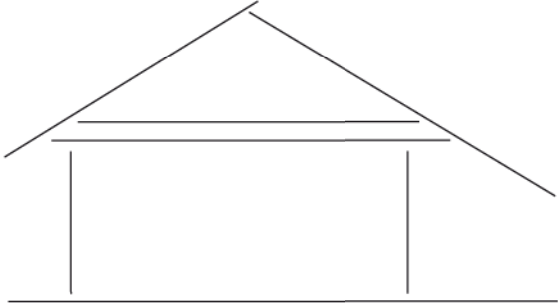
- A. 2
- B. 3
- C. 4
- D. 5





9.

- A. 2
- B. 3
- C. 4
- D. 5



10.

- A. 7
- B. 6
- C. 5
- D. 4

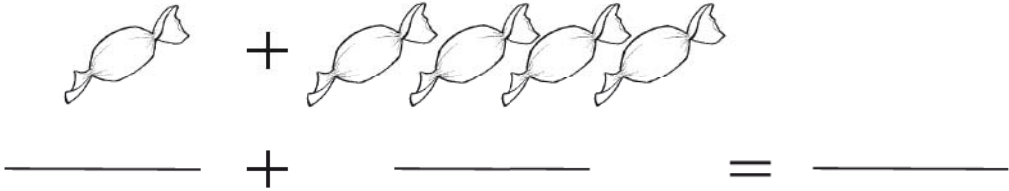


11.

- A. 4
- B. 6
- C. 5
- D. 7



12.



Pruebas Formativas Mensuales - Mayo

13.  $3 + 4 = \boxed{?}$

- A. 1
- B. 6
- C. 8
- D. 7

14.  $5 + 1 = \boxed{?}$

- A. 1
- B. 5
- C. 4
- D. 6

15.  $0 + 7 = \boxed{?}$

- A. 0
- B. 1
- C. 7
- D. 8

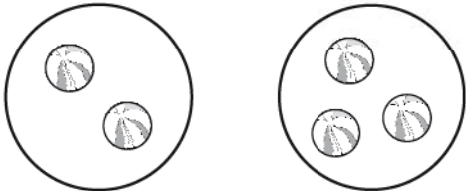
FIN DE LA PRUEBA

Tabla de resultados de la prueba  
Mayo - Primer grado


Insatisfactorio	Debe Mejorar	Satisfactorio	Avanzado
0 - 19	20 - 27	28 - 36	37 - 45
<input type="radio"/>	<input type="radio"/>	<input type="radio"/>	<input type="radio"/>

**JUNIO**

1.  A. 1  
 B. 3  
 C. 2  
 D. 5

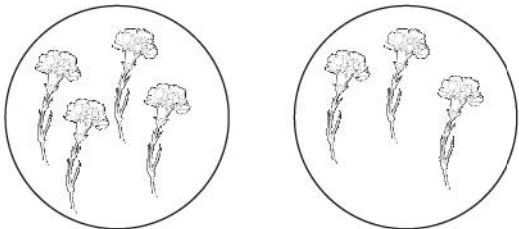


2.




R:

3.



R:

4.



R:

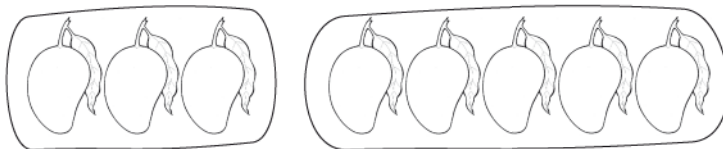
Pruebas Formativas Mensuales - Junio

5.



R:

6.



R:

7.  $5 - 3 = ?$

- A. 8
- B. 3
- C. 2
- D. 1

8.  $2 - 1 = ?$

- A. 3
- B. 2
- C. 1
- D. 0


9.  $6 - 0 = ?$

- A. 6
- B. 5
- C. 1
- D. 0

10.  $9 - 8 = \boxed{?}$


- A. 0
- B. 1
- C. 8
- D. 9

11.



R:

12.



R:

13.



R:

Pruebas Formativas Mensuales - Junio

14.



R:



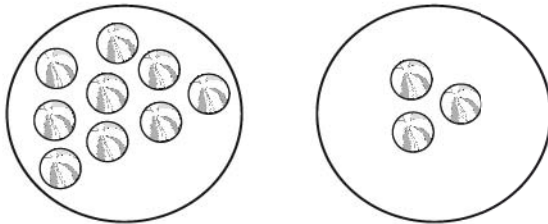
15.



R:



16.



R:



17.



R:

FIN DE LA PRUEBA

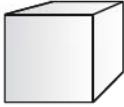
**Tabla de resultados de la prueba  
Junio - Primer grado**

<b>Insatisfactorio</b>	<b>Debe Mejorar</b>	<b>Satisfactorio</b>	<b>Avanzado</b>
0 - 23	24 - 33	34 - 41	42 - 51
<input type="radio"/>	<input type="radio"/>	<input type="radio"/>	<input type="radio"/>

**JULIO**

1.

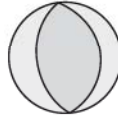
A.



B.



C.




D.



2.

A.



B.



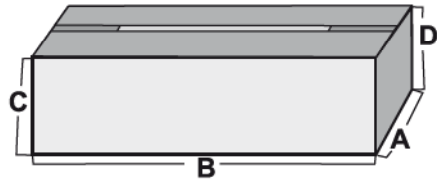
C.



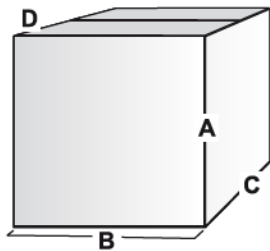
D.



3.




4.





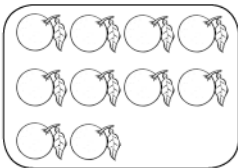
5.



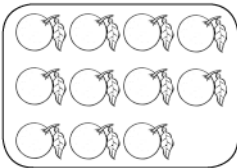
R:

6.

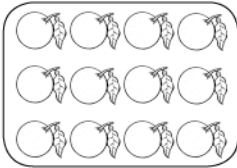
A.



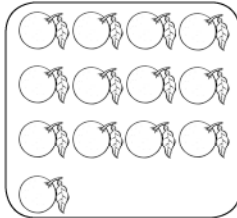
B.



C.



D.

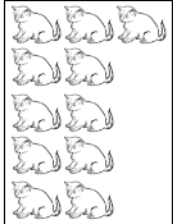


7.

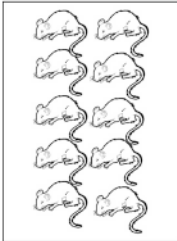
A.



B.



C.



D.



Pruebas Formativas Mensuales - Julio

8.  $(11)$   $\bigcirc$   $(13)$   $(14)$   $(15)$   $(16)$   $\bigcirc$   $(18)$

9.

$\bigcirc\bigcirc\bigcirc\bigcirc\bigcirc + \bigcirc\bigcirc\bigcirc\bigcirc\bigcirc\bigcirc$   
 $\square + \square = \square$

10.  $9 + 8 = \square$

- A. 15
- B. 16
- C. 17
- D. 19

11.  $5 + 9 = \square$

12.  $7 + 6 = ?$

- A. 12
- B. 13
- C. 14
- D. 15

13.  $4 + 8 = ?$

- A. 14
- B. 13
- C. 12
- D. 11

FIN DE LA PRUEBA

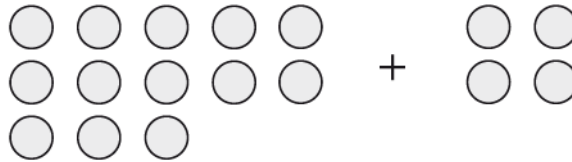
Tabla de resultados de la prueba  
Julio - Primer grado

Insatisfactorio	Debe Mejorar	Satisfactorio	Avanzado
0 - 17	18 - 24	25 - 31	32 - 39
<input type="radio"/>	<input type="radio"/>	<input type="radio"/>	<input type="radio"/>

**AGOSTO**

1. ¿Cuánto es  $13 + 4$ ? Rellene el círculo de la letra que corresponde a la respuesta correcta.

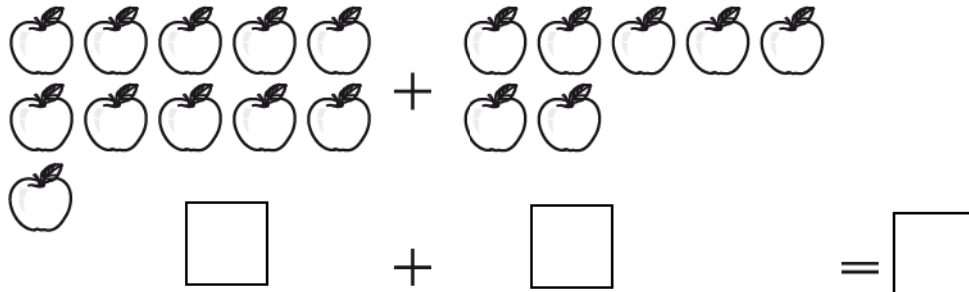
- A. 15
- B. 16
- C. 17
- D. 18



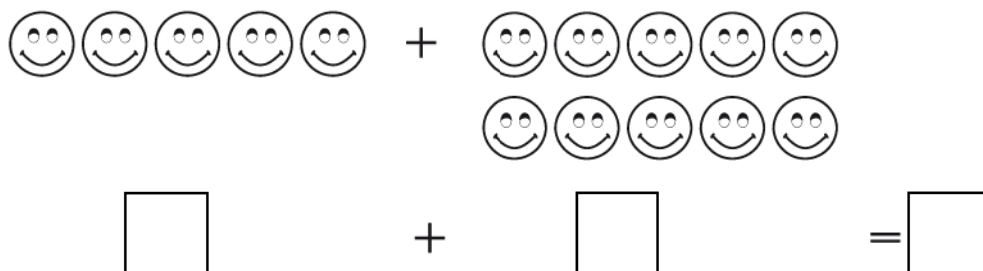
2. ¿Cuánto es  $11 + 7$ ? Rellene el círculo de la letra que corresponde a la respuesta correcta.

- A. 13
- B. 15
- C. 16
- D. 18

3. ¿Cuántas manzanas hay? Escriba los números en los cuadros.



4. ¿Cuántas caritas hay en total? Escriba los números en los cuadros.



5. ¿Qué número falta en el cuadro? Rellene el círculo de la letra que corresponde a la respuesta correcta.

- A. 3
- B. 5
- C. 13
- D. 14

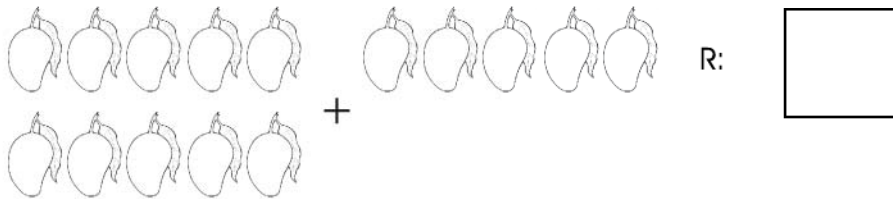
$$\boxed{?} + 5 = 18$$

6. ¿Qué número falta en el cuadro? Rellene el círculo de la letra que corresponde a la respuesta correcta.

- A. 2
- B. 3
- C. 12
- D. 13

$$15 + \boxed{?} = 17$$

7. Pedro y Suyapa fueron a cortar mangos. Pedro cortó 5 mangos y Suyapa cortó 10. ¿Cuántos mangos tienen entre los dos?




8. Roberto compró 5 naranjas y su tío compró 14. ¿Cuántas naranjas compraron entre los dos?




R:

9. ¿Cuánto es  $18 - 9$ ? Rellene el círculo de la letra que corresponde a la respuesta correcta.

- A. 8
  - B. 9
  - C. 10
  - D. 11
- 

10. ¿Cuánto es  $13 - 8$ ? Rellene el círculo de la letra que corresponde a la respuesta correcta.

- A. 4
  - B. 5
  - C. 6
  - D. 7
- 

11. ¿Qué número falta en el cuadro? Rellene el círculo de la letra que corresponde a la respuesta correcta.

- A. 2
- B. 4
- C. 12
- D. 14

$$\boxed{?} - 8 = 4$$

12. ¿Qué número falta en el cuadro? Rellene el círculo de la letra que corresponde a la respuesta correcta.

- A. 3
- B. 7
- C. 13
- D. 17

$$15 - \boxed{?} = 8$$

13. ¿Cuánto es  $12 - 7$ ? Rellene el círculo de la letra que corresponde a la respuesta correcta.


- A. 5
- B. 8
- C. 9
- D. 7

14. Juan tenía 12 naranjas y regaló 8. ¿Cuántas naranjas le quedaron? Rellene el círculo de la letra que corresponde a la respuesta correcta.

- A. 4
- B. 6
- C. 14
- D. 20



15. María tenía 16 pollitos y vendió 9. ¿Cuántos pollitos le quedaron? Escriba el número en el cuadro.



R:


16. Carlos tenía 12 mables y perdió 5 jugando con su amiga Maribel. ¿Cuántos mables le quedaron a Carlos? Escriba el número en el cuadro.



R:

Pruebas Formativas Mensuales - Agosto

17. Sara tenía 13 conejos y vendió 5. ¿Cuántos conejos le quedaron?  
Escriba el número en el cuadro.



R:

FIN DE LA PRUEBA

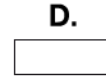
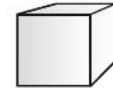
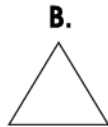
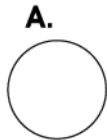
Tabla de resultados de la prueba  
Agosto - Primer grado

Insatisfactorio	Debe Mejorar	Satisfactorio	Avanzado
0 - 22	23 - 31	32 - 41	42 - 51
<input type="radio"/>	<input type="radio"/>	<input type="radio"/>	<input type="radio"/>

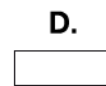
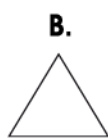
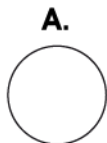


SEPTIEMBRE

1. Marque con una cruz la figura que representa la cara de la caja.

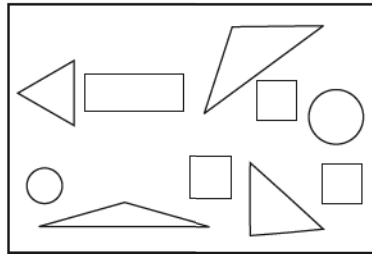


2. Marque con una cruz la figura que representa la cara del banderín.




3. ¿Cuántos triángulos hay en el dibujo? Rellene el círculo de la letra que corresponde a la respuesta correcta.

- A. 1
- B. 2
- C. 3
- D. 4




4. ¿Cuántos círculos hay en la figura? Rellene el círculo de la letra que corresponde a la respuesta correcta.

- A. 2
- B. 3
- C. 6
- D. 5

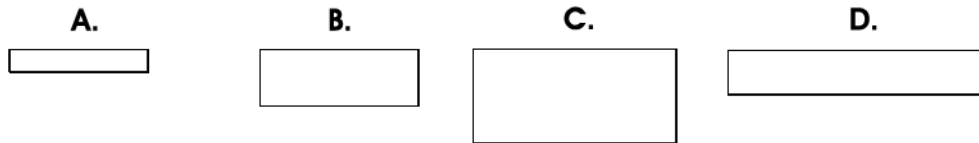


5. ¿Cuántos cuadrados hay en la figura? Rellene el círculo de la letra que corresponde a la respuesta correcta.

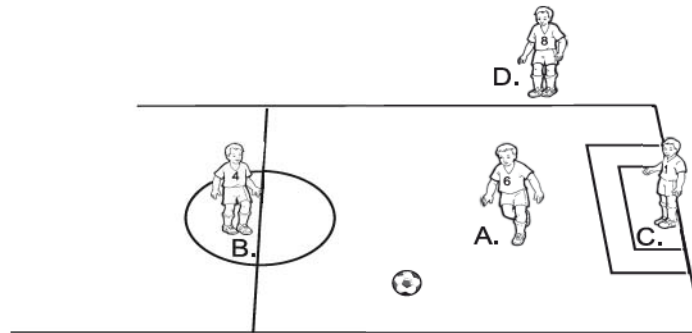
- A. 1
- B. 2
- C. 3
- D. 4



6. Marque con una cruz el rectángulo más largo.

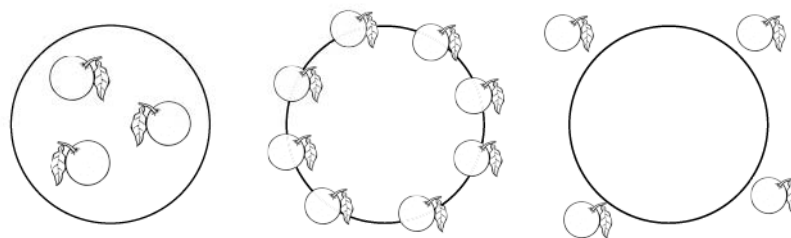


7. Marque con una cruz el niño que está en el interior del círculo.

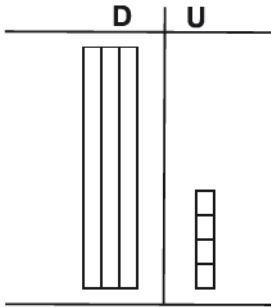


8. ¿Cuántas naranjas están en el borde del círculo?

- A. 4
- B. 3
- C. 8
- D. 7

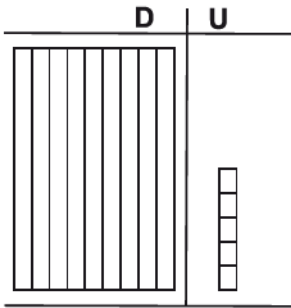


9. ¿Cuál es el número representado en la tabla?



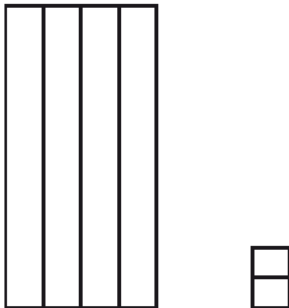
R:

10. ¿Cuál es el número representado en la tabla?



R:

11. ¿Cuál es el número representado por la figura?



R:

decenas

unidades

12. Escriba los números que faltan en los cuadros.



13. Escriba los números que faltan en los cuadros.



14. Escriba los números que faltan en los cuadros.



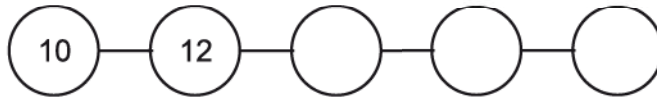
FIN DE LA PRUEBA

Tabla de resultados de la prueba  
Septiembre - Primer grado

Insatisfactorio	Debe Mejorar	Satisfactorio	Avanzado
0 - 18	20 - 26	27 - 35	36 - 42
<input type="radio"/>	<input type="radio"/>	<input type="radio"/>	<input type="radio"/>

**OCTUBRE Y NOVIEMBRE**

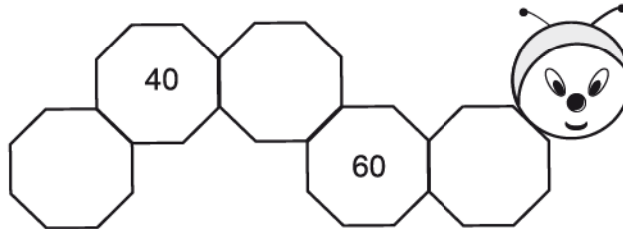
1. Escriba los números que faltan contando de 2 en 2.




2. Escriba los números que faltan contando de 5 en 5.



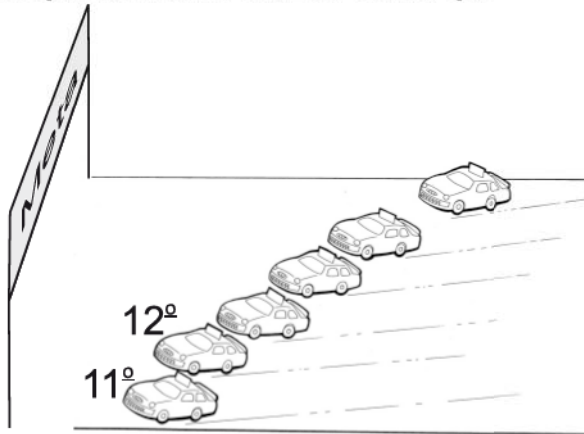
3. Escriba los números que faltan contando de 10 en 10.




4. Marque con una cruz el niño que está en la décima posición.



5. Marque con una cruz el carro que está en la décimo cuarta posición.



6. Escriba el número ordinal que falta en el cuadro.



7. Marque con una cruz el grupo de monedas que equivale a un lempira.


**A.**

**B.**

**C.**

**D.**

8. Manuel cambió un lempira por 5 monedas iguales. ¿Cuánto vale cada moneda? Marque con una cruz la moneda correcta.



9. ¿Cuántos billetes de 5 lempiras hay en un billete de 20 lempiras? Rellene el círculo de la letra que corresponde a la respuesta correcta.


- A. 2
- B. 4
- C. 5
- D. 6

10. ¿Qué cantidad de dinero hay en la colección? Rellene el círculo de la letra que corresponde a la respuesta correcta.

- A. 27
- B. 32
- C. 37
- D. 42



11. ¿Cuánto dinero hay? Escriba su respuesta en los cuadros.



L.

C.

Pruebas Formativas Mensuales - Octubre y noviembre

12. ¿Cuánto dinero hay? Escriba su respuesta en los cuadros.



L.  C.

13. ¿Cuánto dinero hay? Escriba su respuesta en los cuadros.



L.  C.

14. ¿Cuánto dinero hay? Escriba su respuesta en los cuadros.



L.  C.

**FIN DE LA PRUEBA**

**Tabla de resultados de la prueba  
Octubre y noviembre - Primer grado**

Insatisfactorio	Debe Mejorar	Satisfactorio	Avanzado
0 - 16	19 - 26	27 - 35	36 - 42
○	○	○	○







# Créditos

**Abogado José Alejandro Ventura**  
Secretario de Estado en el Despacho de Educación

**M.Sc. Elia de Cid de Andrade**  
Sub-Secretaria de Asuntos  
Técnicos Pedagógicos

**M.Sc. Dennis Fernando Cáceres**  
Director General de Evaluación  
de la Calidad Educativa

## Personal Técnico Responsable

Abelina Meza	Jague Fuentes Mejía	Martha Lidia Hernández
Ada Patricia Díaz	Jairo Omar Rivera	Martha Lorena Briceño
Alan Neptalí Mejía	Jenny Elizabeth Andrade	Martha Patricia Fúnez
Alba Rodríguez Pozas	Jessika M. Rodríguez	Martina Mendoza
Alejandrina Hernández	Jolman Walter Lara	Marvin Mejía
Alma Raquel Domínguez	Jonny Rolando Mencias	Máximo Castro
Alma Rosa Amador	José Antonio Hernández	Máximo Ramos Trejo
Altagracia Sánchez	José Antonio Medina	Mayra Eliuth Ávila
Ana Cecilia Espinoza	José Fernando Lemus	Melba Cristina Galo
Baltimore Alexander Chinchilla	José Mario Membreño	Melba Edit Escobar
Blanca Azucena Melara	Juan Ramón Mendoza	Mirian Alvarado Flores
Dilcia Minely Zelaya	Juan Vicente Rodríguez	Mirna Orquídea Rivera
Dixiana Mabel Fuentes	Judith Barahona Urtecho	Nelson Ricardo Triminio
Dora Araceli Jiménez	Karen Mirelda Ortiz	Noel Isaías Reyes
Edgar Leodam Rosa	Karina Maricella Ávila	Pedro Aguilar Mejía
Edith Marlene Melara	Karla María Vargas	Pedro Antonio Valladares
Edwin Domínguez	Kennya Alejandra Díaz	Ramón Rosa Ramírez
Elsa Amalia Pineda	Lesbia Ramírez	Reina Gabriela Núñez
Enemesio Martínez	Lidia Ondina Méndez	Reina Margarita Isaula
Enrique Burgos	Liliam Samira Lemus	Reinelda Flores Díaz
Erika P. Bulnes	Lucía Amador Ramírez	Rita Lorena Machuca
Esterlinda Garmendia Andino	Luis Armando Ramos	Rosa Amanda Hernández
Evamely Mayes Chávez	Luz Angélica Requeno	Rosario Baide Cardona
Evelyn Verónica Núñez	Magda Aradenia Rivas	Ruth Noemí Rosa
Francisca Ignacia Hernández	Manuela del Carmen Ponce	Sagrario María Midence
Francisco Granadas	Manuela Yanett Oseguera	Sandra Ester López
Gerardo A. Quijada	María del Rosario Sosa	Santa Alejandrina Erazo
Gerardo Abraham Solano	María Eugenia Reyes	Santa Neptalia Santos
Gina Patricia Flores	María Gumercinda Tábora	Santos Roberto Corano
Gloria Robertina Montes	María Teresa Obando	Silvia Maribel Portillo
Gloria Suyapa Alvarado	Mario Moncada	Sonia Valeriano Matamoros
Guadalupe Torres	Maritza Aguilar Sandoval	Susana Garmendia
Idalia Domínguez	Maritza Zelaya	Timoteo Díaz Pineda
Imara Regina Chacón	Marlene Yamileth Cerrato	Vilma Celenia Lémuz
Iris Rodríguez Euceda	Martha Briceño	Vilma Deysi Guillén
Irma Echeverría	Martha Josefina Zelaya	

*Se agradece especialmente a los autores y autoras de los textos utilizados en la elaboración de las Pruebas Formativas Mensuales (libros, revistas y periódicos nacionales).*



La educación es la primera  
necesidad de un pueblo  
José Cecilio del Valle

**Las Pruebas Formativas Mensuales** han sido producidas gracias al generoso apoyo del pueblo de Estados Unidos de América a través de la **Agencia de Estados Unidos para el Desarrollo Internacional (USAID)**.